
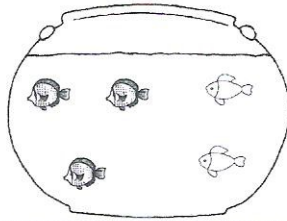


9  **écrits** Ecris une opération pour résoudre les problèmes.

Dans mon bocal il y a 3  et 2 

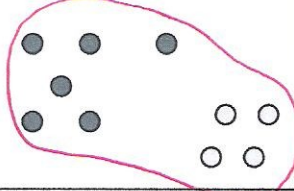
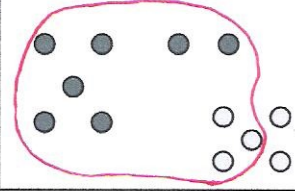
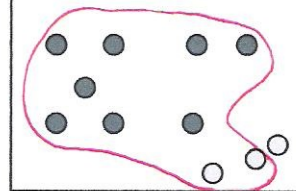
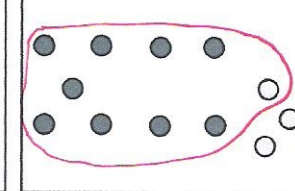
Combien y a-t-il de poissons en tout ?



→  $3 + 2 = 5$

Il y a 5 poissons dans mon bocal.

10  **entoure** les jetons pour créer un paquet de 10 puis écris la réponse.

$6 + 4 = 10$ 	$7 + 5 = 12$ 	$8 + 3 = 11$ 	$9 + 4 = 13$ 
--	--	---	--

11  **écrits** Complète les soustractions.



$9 - 0 = 9$

$9 - 1 = 8$

$9 - 2 = 7$



$8 - 1 = 7$

$8 - 2 = 6$


$8 - 3 = 5$



$7 - 6 = 1$

$7 - 5 = 2$

$7 - 4 = 3$

12  **écrits** Ecris le résultat des additions.

$1 + 3 + 6 = 10$

$7 + 0 = 7$

$2 + 2 - 1 = 3$

$2 + 5 + 3 = 10$

$6 + 1 = 7$

$3 + 2 - 1 = 4$

$3 + 3 + 4 = 10$

$5 + 2 = 7$

$4 + 2 - 1 = 5$

$4 + 5 + 1 = 10$

$4 + 3 = 7$

$5 + 2 - 1 = 6$

