



1 écris Ecris les résultats des additions.

$$\boxed{30} + \boxed{3} = \boxed{33}$$

$$\boxed{10} + \boxed{1} = \boxed{11}$$

$$\boxed{20} + \boxed{2} = \boxed{22}$$

2 Dessine les pièces et/ou les billets puis relie les


16 €

$\boxed{10}$ $\boxed{5}$ $\textcircled{1}$

$\textcircled{1}$ $\textcircled{1}$ $\textcircled{2}$ \bullet 17 €

$\boxed{5}$ $\boxed{10}$ \bullet 19 €

3 écris Ecris la table des doubles.



$6 + 6 = 12$ | $7 + 7 = 14$ | $8 + 8 = 16$ | $9 + 9 = 18$ | $10 + 10 = 20$

4 écris Ecris les nombres. (sous la dictée et dans le désordre)

15 - 18 - 9 - 13 - 7

14 - 20 - 12 - 15 - 16

--	--	--	--	--

--	--	--	--	--

5 écris Ecris les nombres dans les cases.

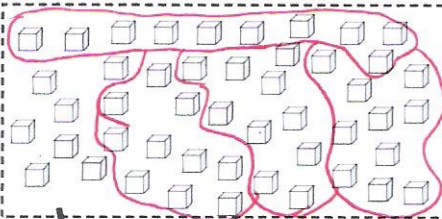
$\textcircled{16}$ $\textcircled{17}$ $\textcircled{18}$ $\textcircled{19}$ $\textcircled{20}$ $\textcircled{21}$ $\textcircled{22}$ $\textcircled{23}$ $\textcircled{24}$ $\textcircled{25}$ $\textcircled{26}$ $\textcircled{27}$

6 écris Ecris les nombres dans les nuages.

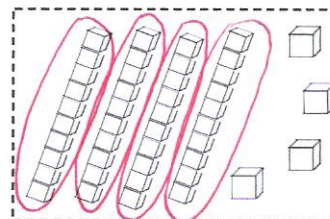
$\textcircled{2}$ $\textcircled{5}$ $\textcircled{7}$ $\textcircled{9}$

$\textcircled{11}$ $\textcircled{13}$ $\textcircled{16}$ $\textcircled{19}$

7 entoure Calcule les dizaines et les unités.



4	7



4	4

8 colle Reproduis le pavage. (sur une feuille à carreaux)

v	j	j	b	b	b	v	j	j	b	b	b	v	j	j	b	b	b	v	j
b	v	j	j	b	b	b	v	j	j	b	b	b	v	j	j	b	b	b	v

