

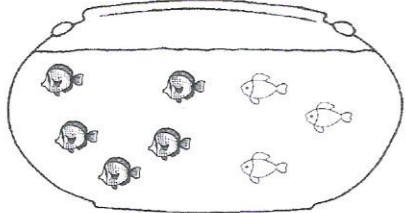


9  Ecris une opération pour résoudre les problèmes.



Dans mon bocal il y a **5**  et **3** 

Combien y a-t-il de poissons en tout ?

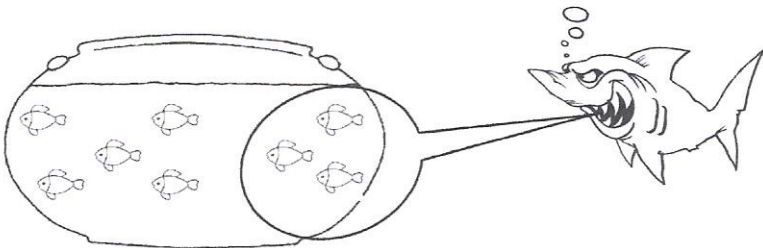


$\rightarrow 5 + 3 = 8$

Il y a **8** poissons dans mon bocal.

Dans mon bocal il y a **8** . Le requin  attrape **3** poissons.


Combien reste-t-il de poissons ?



$\rightarrow 8 - 3 = 5$

Il reste **5** poissons dans mon bocal.


10  Complète les soustractions.



$9 - 8 = \underline{1}$

$9 - 6 = \underline{3}$

$9 - 4 = \underline{5}$



$8 - 7 = \underline{1}$

$8 - 5 = \underline{4}$

$8 - 3 = \underline{5}$



$7 - 4 = \underline{3}$

$7 - 2 = \underline{5}$

$7 - 7 = \underline{0}$

11  Ecris le résultat des additions.

$7 + 1 + 2 = \underline{10}$

$6 + 0 = \underline{6}$

$5 + 5 = \underline{10}$

$3 + 2 - 1 = \underline{4}$

$8 + 0 + 2 = \underline{10}$

$5 + 1 = \underline{6}$

$6 + 5 = \underline{11}$

$4 + 1 + 2 = \underline{7}$

$9 + 1 + 0 = \underline{10}$

$4 + 2 = \underline{6}$

$7 + 5 = \underline{12}$

$2 + 3 - 1 = \underline{4}$

$6 + 1 + 3 = \underline{10}$

$3 + 3 = \underline{6}$

$8 + 5 = \underline{13}$

$1 + 4 - 1 = \underline{4}$

